




Quiz do Dhaltaí Bunscoile Sinsearacha



Ceisteanna	Freagraí
1. Ainmnigh 3 chineál scamaill trí na bearnaí a líonadh	C _ _RR _ S C _ MAL _ S STR _ T _ S
2. Cá mhéid nóiméad a ghlacann sé ar sholas na gréine an domhan a shroicheadh?	_____ nóiméad
3. Céard é a thomhaiseann ainéimiméadar?	a) _____ b) _____ 
4. Ainmnigh an chéad chéim de Thimthriall an Uisce.	_____
5. Aistrigh 20° C go Fahrenheit NOD: $T_C = (T_F - 32) \div 1.8$ $T_F = (T_C \times 9/5) + 32$	
6. Cé acu atá níos tapúla; toirneach nó tintreach? Ticeáil an bosca	Toirneach <input type="checkbox"/>  Tintreach <input type="checkbox"/> 
7. Cá mbailíonn meitéareolaithe na hÉireann eolas faoin aimsir? Ainmnigh 3 fhoinse.	a) _____ b) _____ c) _____
8. Cén saghas aimsire a ghabhann le laghrú (L)?	
9. Ainmnigh 3 bhealach ar féidir linn Téamh Domhanda a laghdú.	a) _____ b) _____ c) _____
10. Liostaigh 2 shlí ar féidir le heolaithe athrú aeráide a thomhas.	a) _____ b) _____